

Aujourd'hui c'est _____.

Le nombre du jour
21
pair ou impair

Écris en mots

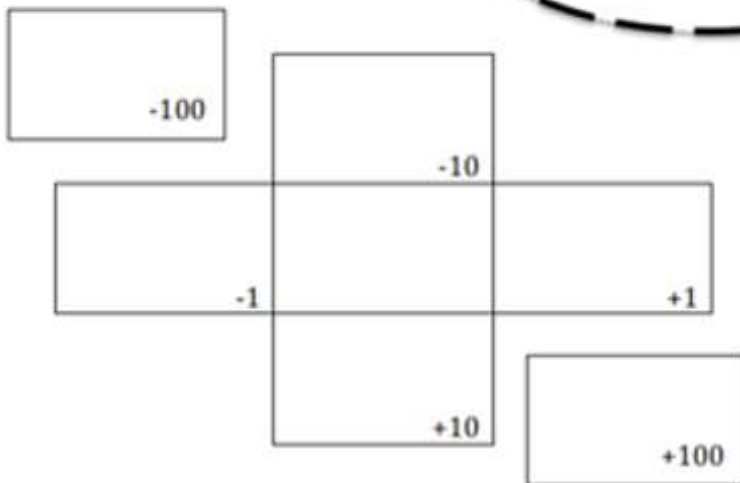
Forme développée

Arrondis à la dizaine la plus proche

Représente en blocs de base dix

En argent

comparer au numéro d'hier



Fais un dessin

Demain ça sera _____.

Le nombre du jour
21
 Souligne les dizaines

Le nombre du jour est le tout. Dessine un tableau partie-partie-tout.

Centaines C	Dizaines D	Unités U

Une droite numérique ouverte



Écris une expression mathématique avec le nombre du jour.

Ajoute le nombre au nombre d'hier

Le nombre du jour est la réponse.
 C'est quoi la question?

Le double



La moitié



Aujourd'hui c'est le lundi 11 mai 2020


Le nombre du jour
21
 pair ou **impair**


Écris en mots **vingt et un**

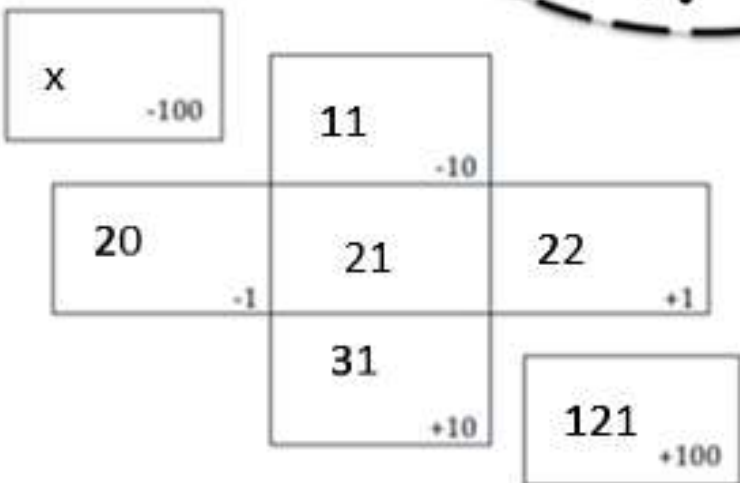
Forme développée
 $20 + 1 = 21$

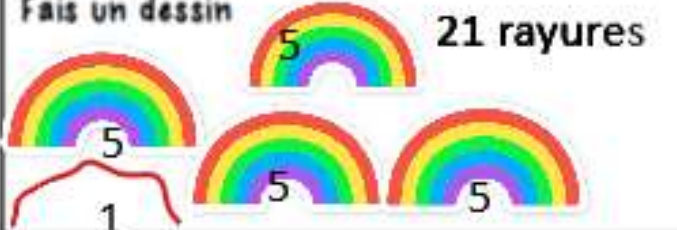
Arrondis à la dizaine la plus proche
 20

Représente en blocs de base dix


En argent


comparer au numéro d'hier
 18  21



Fais un dessin **21 rayures**


Demain ça sera le mardi 12 mai 2020.

Le nombre du jour

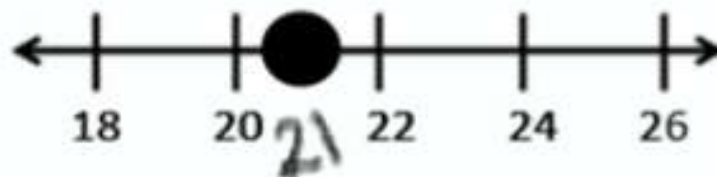
21

Souligne les dizaines

Le nombre du jour est le tout. Dessine un tableau partie-partie-tout.

21	9
	12

Une droite numérique ouverte



Centaines C	Dizaines D	Unités U
	2	1

Écris une expression mathématique avec le nombre du jour.

$$21 + 3 = 20 + 4$$

Ajoute le nombre au nombre d'hier

$$21 + 18 = 39$$

Le double



La moitié



Le nombre du jour est la réponse.
C'est quoi la question?

Alain me donne 15 bijoux. Il en reste 21. Combien de bijoux avait Alain au début?

$$? - 15 = 21$$

?	
15	21

Il avait 36 bijoux au début.