

Aujourd'hui c'est _____.

Le nombre du jour
18
pair ou impair

Écris en mots

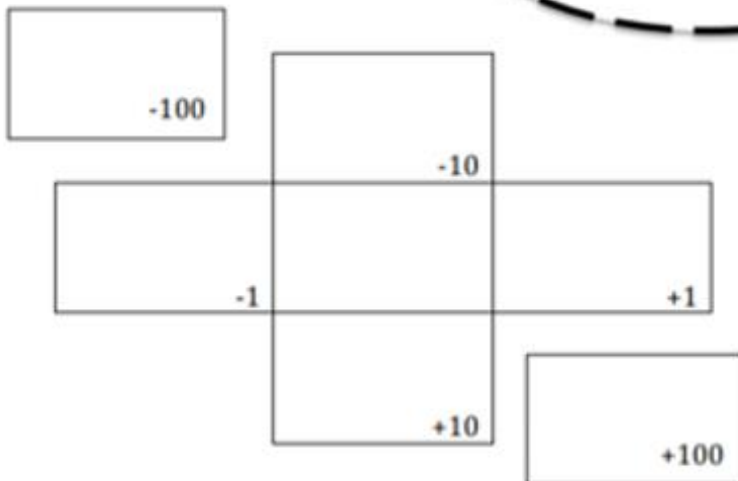
Forme développée

Arrondis à la dizaine la plus proche

Représente en blocs de base dix

En argent

comparer au numéro d'hier



Fais un dessin

Demain ça sera _____.

Le nombre du jour

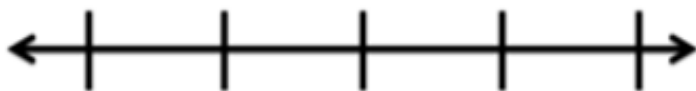
18

Souligne les dizaines

Le nombre du jour est le tout. Dessine un tableau partie-partie-tout.

Centaines C	Dizaines D	Unités U

Une droite numérique ouverte




Écris une expression mathématique avec le nombre du jour.

Ajoute le nombre au nombre d'hier

Le nombre du jour est la réponse.
C'est quoi la question?

Le double



La moitié



Aujourd'hui c'est Le lundi 4 mai 2020

Le nombre du jour
18
pair ou impair

Ecris en mots
dix-huit

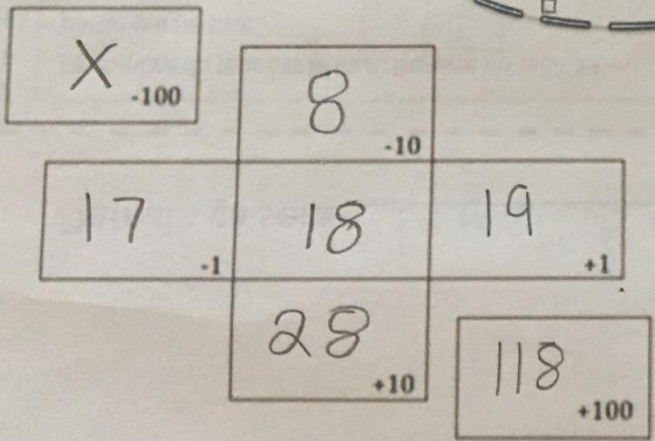
Forme développée
 $10 + 8 = 18$

Arrondis à la dizaine la plus proche
20


Représente en blocs de base dix

En argent
10¢ 5¢ 1¢ 1¢ 1¢

comparez au numéro entier
18 > 4



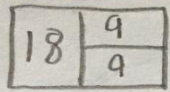
Fais un dessin 18 oreilles



Demain ça sera Le mardi 5 mai 2020.

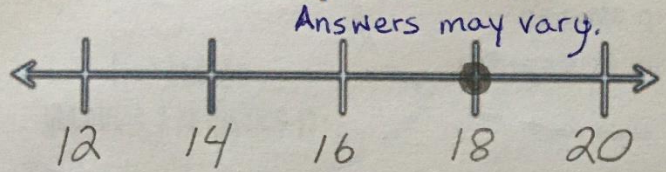
Le nombre du jour
18
Souligne les dizaines

Le nombre du jour est le tout. Dessine un tableau partie-partie-tout.



Centaines C	Dizaines D	Unités U
	1	8


Une droite numérique ouverte




Écris une expression mathématique avec le nombre du jour.
 $10 + 8 = 18$

Ajoute le nombre au nombre d'hier
 $18 + 4 = 22$

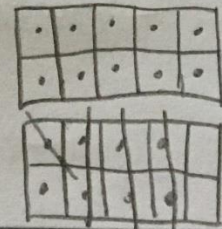
Le double



La moitié



Le nombre du jour est la réponse
C'est quoi la question? Dani a 18 moutons. Il en donne 7 à son amie. Combien de moutons reste-t-il?
 $18 - 7 = 11$
Dani a maintenant 11 moutons.



Dani has 18 sheep. He gives 7 to his friend. How many sheep are left? Dani now has 11 sheep.