

Aujourd'hui c'est \_\_\_\_\_.

Le nombre du jour  
**72**  
pair ou impair

Écris en mots

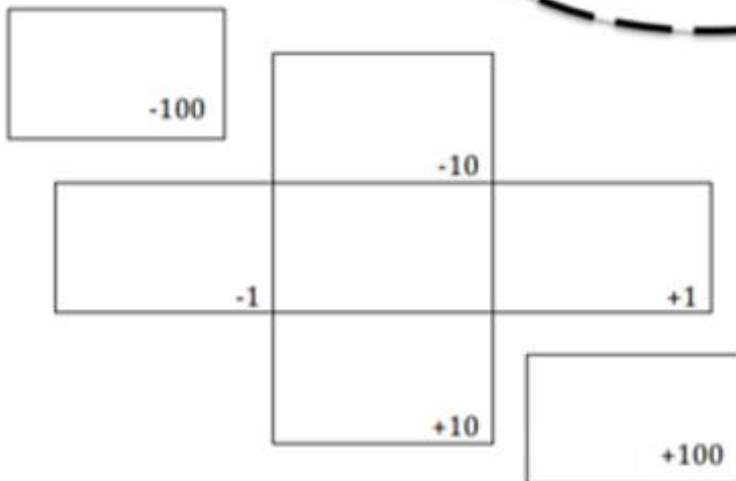
Forme développée

Arrondis à la dizaine la plus proche

Représente en blocs de base dix

En argent

comparer au numéro d'hier



Fais un dessin

Demain ça sera \_\_\_\_\_.

Le nombre du jour

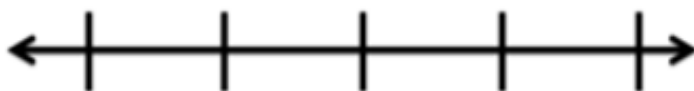
72

Souligne les dizaines

Le nombre du jour est le tout. Dessine un tableau partie-partie-tout.

Centaines <b>C</b>	Dizaines <b>D</b>	Unités <b>U</b>

Une droite numérique ouverte




Écris une expression mathématique avec le nombre du jour.

Ajoute le nombre au nombre d'hier

Le nombre du jour est la réponse.  
C'est quoi la question?

Le double



La moitié



Aujourd'hui c'est le lundi 8 juin 2020.

Le nombre du jour  
**72**  
pair ou impair

Écris en mots

**soixante-douze**

Forme développée

$$70 + 2 = 72$$

Arrondis à la dizaine la plus proche

**70**

Représente en blocs

de base dix



En argent

25¢

25¢

10¢

10¢

1¢

1¢

comparer au numéro d'hier

51

<

72

x

-100

62

-10

71

72

73

-1

+1

82


+10

172

+100

Fais un dessin 72 pommes

1 1



10

10

10

10

10

10

10

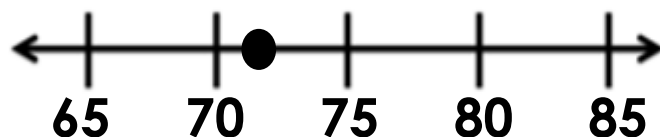
Demain ça sera le mardi 9 juin 2020.

Le nombre du jour  
**72**  
Souligne les dizaines

Le nombre du jour est le tout. Dessine un tableau partie-partie-tout.

72	51
	21

Une droite numérique ouverte



Ajoute le nombre au nombre d'hier

$$72 + 51 = 123$$

Le double

144

La moitié

36

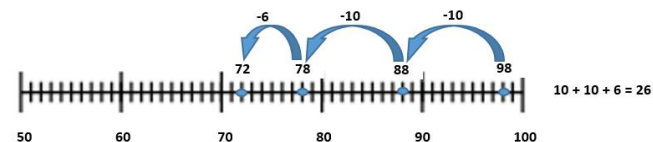
Centaines C	Dizaines D	Unités U
	7	2

Écris une expression mathématiques avec le nombre du jour.

$$12 + 3 \neq 72$$

Le nombre du jour est la réponse  
C'est quoi la question?

La classe commence avec 98 crayons. Madame Li donne un crayon à chaque élève. Il reste 72 crayons à la fin. Combien d'élèves y-a-t-il?



$$98 - ? = 72$$

Il y a 26 élèves dans la classe de Mme Li.