

Aujourd'hui c'est _____.

Le nombre du jour
46
pair ou impair

Écris en mots

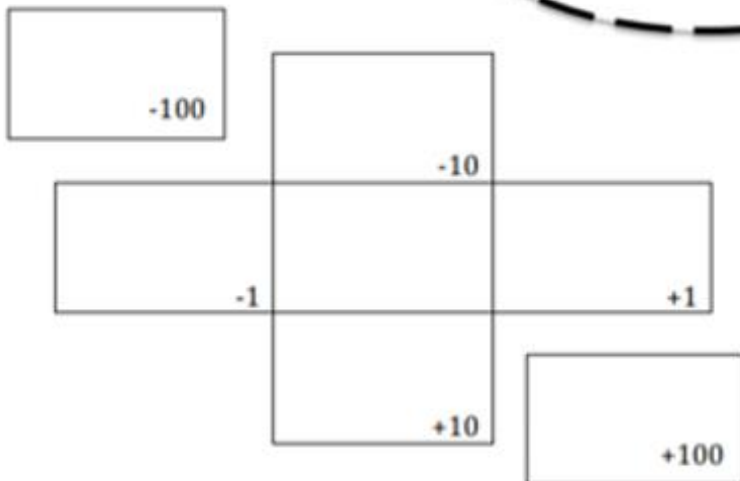
Forme développée

Arrondis à la dizaine la plus proche

Représente en blocs de base dix

En argent

comparer au numéro d'hier
_____ ○ _____



Fais un dessin

Demain ça sera _____.

Le nombre du jour

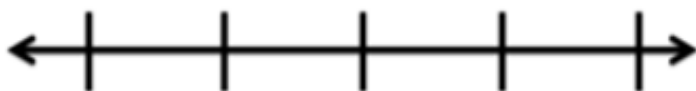
46

Souligne les dizaines

Le nombre du jour est le tout. Dessine un tableau partie-partie-tout.

| Centaines C | Dizaines D | Unités U |
|-----------------------|----------------------|--------------------|
| | | |

Une droite numérique ouverte




Écris une expression mathématique avec le nombre du jour.

Ajoute le nombre au nombre d'hier

Le nombre du jour est la réponse.
C'est quoi la question?

Le double



La moitié



Aujourd'hui c'est le lundi 25 mai 2020.

Le nombre du jour

46

pair ou impair

Écris en mots

quarante-six

Forme développée

$$40 + 6 = 46$$

Arrondis à la dizaine la plus proche

50

Représente en blocs de base dix



En argent

10¢

5¢

10¢

10¢

10¢

1¢

comparer au numéro d'hier

34

<

46

x

-100

36

-10

45

46

47

-1

+1

56

+10

146

+100

Fais un dessin

46 pétales



10

10

10

10

6

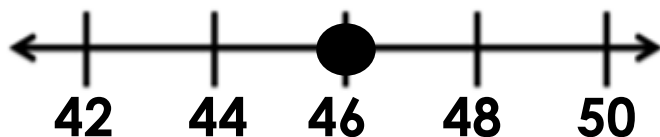
Demain ça sera le mardi 26 mai 2020.

Le nombre du jour
46
Souligne les dizaines

Le nombre du jour est le tout. Dessine un tableau partie-partie-tout.

| | |
|----|----|
| 46 | 21 |
| | 25 |

Une droite numérique ouverte



Ajoute le nombre au nombre d'hier

$$34 + 46 = 80$$

Le double

92

La moitié

23

| Centaines C | Dizaines D | Unités U |
|----------------|---------------|-------------|
| | 4 | 6 |

Écris une expression mathématiques avec le nombre du jour.

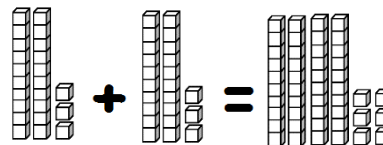
$$46 + 4 = 34 + 16$$

Le nombre du jour est la réponse

C'est quoi la question?

Ella a fait 23 biscuits en forme de cœur et 23 biscuits en forme de cercle. Combien de biscuits a-t-elle fait en tout?

$$23 + 23 = ?$$



Elle a fait 46 biscuits en tout.